


小学3年生 理科

11 じしゃくにつけよう② 「極のせいしつ」

鉄のクリップにじしゃくを近づけると、クリップが多くつく部分とつかない部分があります。



じしゃくの、鉄を引きつける力が強い部分を _____ といいます。極には _____ と _____ があります。



問題 じしゃくの極には、どんなせいしつがあるのだろうか。

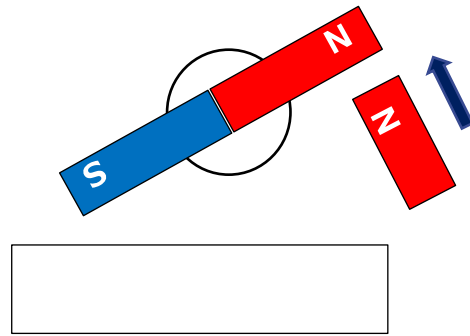
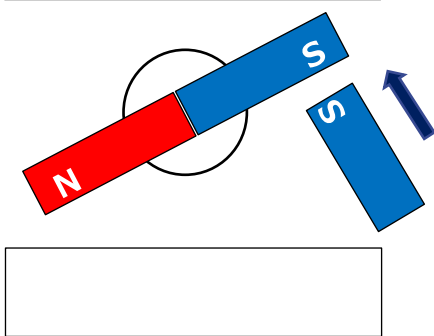
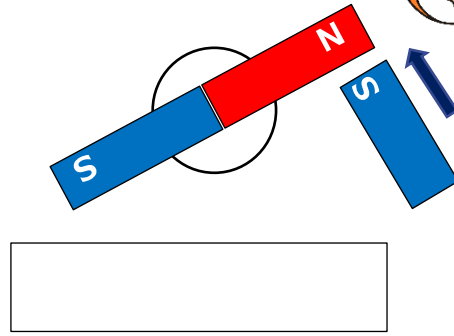
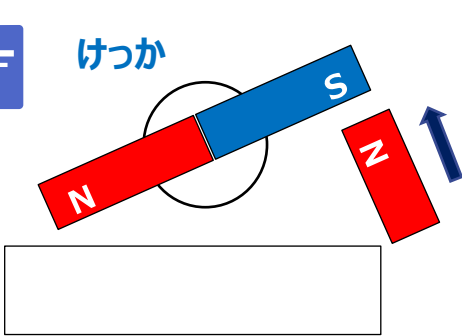


じっけん3 じしゃくの極のせいしつを、調べましょう。

極どうしを近づけたらどうなるのかな？



けっか



まとめ

- 2つのじしゃくを近づけたとき、ちがう極どうしは _____ ,
同じ極どうしは _____ ます。

